

A avoa Carmela enviounos unha **buxaina vella** e unha pregunta: "Que formas teñen os xogos?". Imos atopar formas planas polo aula e nos xogos tradicionais.

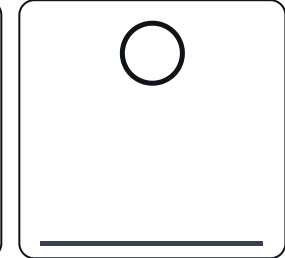
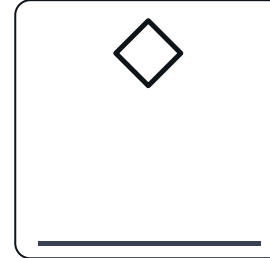
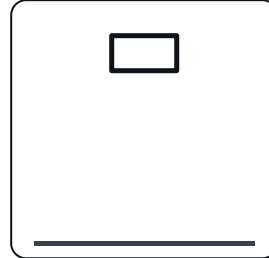
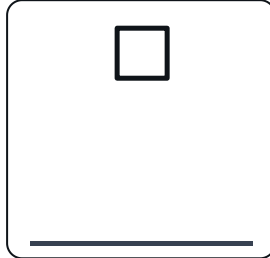
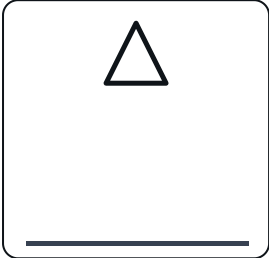
EQUIPO

DETECTIVES

DATA

1 Identifica · escribe o nome de cada figura

Usa o banco de nomes



Banco: triángulo cadrado rectángulo rombo círculo

2 Emplea · atopa 3 obxectos do aula con esa forma

Escribe ou debuxa · 5 min

Triángulo	Cadrado	Rectángulo	Rombo	Círculo

3 Justifica / Crea · para detectives expertos

Frase, debuxo ou as dúas

Por que un rombo non é un cadrado? Explica cunha frase, cun debuxo, ou as dúas cousas.
